



ATIVIDADES NÃO PRESENCIAIS



6º ATIVIDADE COMPLEMENTAR DIA 29 DE MAIO DE 2021

ESCOLA:

PROFESSOR:

ALUNO:

TURMA: 6º ao 9º ano ano

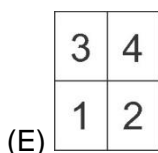
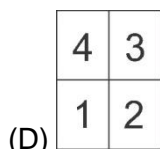
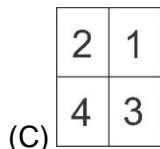
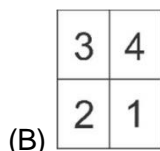
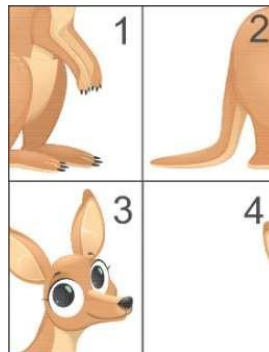
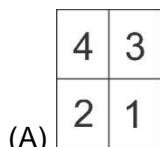
DISCIPLINA: Matemática

CONTEUDO: Desafios Matemáticos.

Atividades organizadas pelos professores: Flavia Burock Venturi Lima, Pablo da Silva e Verônica Pelais Almeida

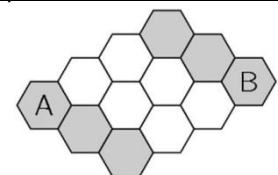
ATIVIDADES

- 1) Nélia arrumou as quatro peças ao lado para montar a figura de um canguru. Como as peças foram arrumadas?



Fonte: <https://www.cangurudematematicabrasil.com.br/para-escolas/provas-antiores/54-provas-e-resolucoes-2020>

- 7) A abelha Maia pode andar somente sobre as casas cinzas. De quantas formas você pode colorir de cinza exatamente duas casas brancas de modo que Maia possa andar de A até B?



- (A) 3
(B) 4
(C) 5
(D) 6

Fonte: <https://www.cangurudematematicabrasil.com.br/para-escolas/provas-antiores/54-provas-e-resolucoes-2020>